

**Демонстрация итоговой контрольной работы  
по географии в 2022 – 2023 учебном году  
в 6 классе**

**Часть 1.**

**Выберите один верный ответ**

1. Слово «География» в переводе с греческого означает:  
а. изучение Земли; б. измерение Земли; в. описание Земли; г. это вообще не греческое слово.
2. Какая из перечисленных планет не входит в планеты земной группы?  
а. Земля; б. Уран; в. Марс; г. Меркурий.
3. Полный оборот Земля совершает вокруг Солнца за:  
а. 365 дней б. 365 дней 8 часов в. 365 дней 4 часа г. 365 дней 6 часов
4. Какого значения не может быть у широты:  
а. 0° б. 45° в. 90° г. 135°
5. Географическая широта – это расстояние от:  
а. экватора; б. Северного полюса; в. начального меридиана; г. Москвы.
6. Количество света и тепла приходящее на поверхность Земли зависит от:  
а. рельефа; б. угла падения солнечных лучей; в. высоты над уровнем моря; г. нет правильного ответа.
7. Смена дня и ночи происходит из-за:  
а. вращения Земли вокруг своей оси; б. вращения Земли вокруг Солнца;  
в. наклона оси вращения Земли; г. времени суток.
8. 22 июня называется:  
а. зимнее солнцестояние; б. осеннее равноденствие; в. летнее солнцестояние; г. весеннее равноденствие.
9. Географическая карта – это:  
а. чертёж местности; б. рисунок местности; в. модель местности; г. план местности.
10. Длина моста на плане в масштабе 1 : 800 составляет 2 см. Какова его длина на местности:  
а. 8 м.; б. 16 м.; в. 80 м.; г. 160 м.
11. Рельеф местности на карте показан способом:  
а. качественного фона; б. значками; в. изолиниями; г. знаками движения.
12. Отличием материковой земной коры от океанической является:  
а. толщина; б. наличие магматических горных пород;  
в. наличие осадочных горных пород; г. наличие метаморфических горных пород.
13. Наука, изучающая землетрясения, называется:  
а. сейсмология; б. вулканология; в. минералогия; г. геология.
14. Из всех гор планеты Анды самые:  
а. высокие; б. протяжённые; в. низкие; г. разрушенные.
15. Свойство воды:  
а. вода медленно нагревается, но и быстро остывает;  
б. вода быстро нагревается, зато медленно остывает;  
в. вода быстро нагревается, но и быстро остывает;  
г. вода медленно нагревается, но и медленно остывает.
16. В каком случае процессы названы в правильном порядке:  
а. конденсация пара – выпадение осадков – охлаждение воздуха;  
б. выпадение осадков – охлаждение воздуха – конденсация пара;  
в. охлаждение воздуха – выпадение осадков – конденсация пара;  
г. охлаждение воздуха – конденсация пара – выпадение осадков.
17. Воздушные массы это:  
а. большие объёмы воздуха не отличающиеся своими свойствами;  
б. большие объёмы воздуха, обладающие определёнными свойствами;  
в. небольшие объёмы воздуха, обладающие определёнными свойствами;

г. небольшие объёмы воздуха не отличающиеся своими свойствами.

18. Погода – это:

- а. состояние атмосферы в данное время и в данной местности;
- б. состояние стратосферы в данное время и в данной местности;
- в. состояние тропосферы в данное время и в данной местности;
- г. состояние верхних слоёв атмосферы в данное время и в данной местности.

19. Биосфера – это:

- а. область распространения растений; б. область распространения животных;
- в. область распространения жизни; г. Нет верного ответа.

20. Смена природных зон подчиняется изменениям:

- а. климата; б. рельефа; в. почв; г. ветра.

### Часть 2.

1. Установите соответствие между названиями природных зон и географическими особенностями, которые характерны для каждой из них. Для этого к каждой позиции первого столбца подберите соответствующую позицию из второго столбца.

#### **ГЕОГРАФИЧЕСКИЕ ОСОБЕННОСТИ**

- А) безлесное пространство;
- Б) растительность скудная;
- В) занимает обширные районы крайнего севера России;
- Г) растут хвойные растения

#### **ПРИРОДНЫЕ ЗОНЫ**

- 1) тундра
- 2) тайга

Запишите в таблицу выбранные цифры под соответствующими буквами.

Ответ:

| А | Б | В | Г |
|---|---|---|---|
|   |   |   |   |

2. Установите соответствие:

- А) материк                      1) Аравийское
- Б) море                         2) Австралия
- В) океан                        3) Тихий
- Г) остров                        4) Черное

Ответ:

| А | Б | В | Г |
|---|---|---|---|
|   |   |   |   |

3. Установите соответствие между материком и рекой:

- 1. Евразия                      А) Амазонка
- 2. Африка                        Б) Нил
- 3. Южная Америка            В) Лена
- Г) Ока

Ответ:

| А | Б | В | Г |
|---|---|---|---|
|   |   |   |   |

4. Установите соответствие:

- 1. Евразия                      А) самый сухой материк
- 2. Африка                        Б) самый большой материк
- 3. Австралия                    В) самый влажный материк
- 4. Южная Америка            Г) самый жаркий материк










Ответ:

| 1 | 2 | 3 | 4 |
|---|---|---|---|
|   |   |   |   |

|  |  |  |  |
|--|--|--|--|
|  |  |  |  |
|--|--|--|--|

**Часть 3.**

1. На каком рисунке знаками отображена погода в тот день, когда дул восточный ветер? Укажите букву, которой обозначен этот рисунок. Составьте описание погоды в этот день.

|   |   |   |   |        |     |
|---|---|---|---|--------|-----|
| А |  |  |  | -30 °С | 60% |
| Б |  |  |  | +18 °С | 93% |
| В |  |  |  | -10 °С | 85% |

Ответ: Буква

Описание:

---



---



---



---

**Критерии оценивания:**

**1 часть:** по 1 баллу за верный ответ.

**2 часть:** по 2 балла за верный ответ.

За ответ на задание выставляется 1 балл, если в ответе указаны две любые цифры, представленные в эталоне ответа, и 0 баллов, если верно указана одна цифра или не указано ни одной.

**3 часть:** всего за задание 2 балла.

Если неправильно указана буква – 0 баллов. Если верно указана буква и в описании допущена 1-2 ошибки – 1 балл.

ИЛИ

За каждый верный ответ на вопрос по одному баллу.

**Итого получается – 30 баллов за всю ИКР.**

**Нормы выставления отметок:**

«5» - 90-100% выполненных заданий

«4» - 70-89% выполненных заданий

«3» - 50-69% выполненных заданий

«2» - 0-49% выполненных заданий

«5» - 27-30 баллов

«4» - 21-26 баллов

«3» - 15-20 баллов

«2» - 0-14 баллов



